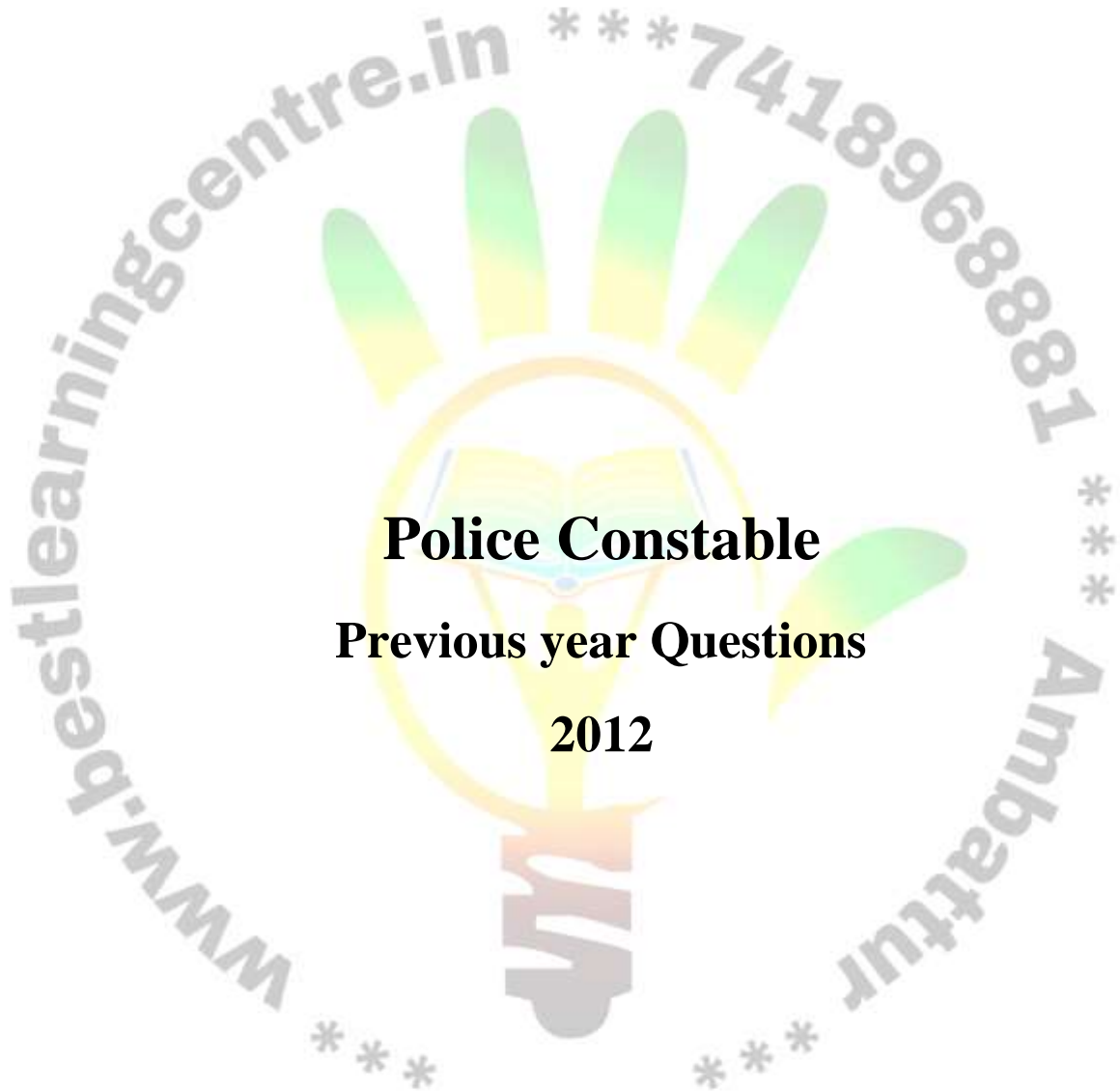




**BEST Learning Centre**

Joining us to write your Own Success Story



## YEAR 2012

1)  $9x^2y^4Z^8$  -ன் வர்க்க மூலம்?

- A)  $3xy^2Z^4$       B)  $3x^2y^2Z^4$       C)  $9xy^2Z^4$       D) இதில் ஏதுமில்லை

2)  $A \cup (B \cap C) = \dots\dots\dots ?$

- A)  $A \cap (B \cup C)$       B)  $A \cup (B \cup C)$       C)  $(A \cup B) \cap (A \cup C)$       D)  $(A \cup B) \cup (A \cup C)$

3) 'r' அலகு ஆரமும் 'h' அலகு உயரமும் உடைய உருளையின் கன அளவு?

- A)  $\pi r^2 h$  கன அலகுகள்      B)  $2\pi r^2 h$  கன அலகுகள்  
C)  $\pi r^2 h$  கன அலகுகள்      D)  $\frac{1}{3} \pi r^2 h$  கன அலகுகள்

4)  $1 + 2 + 3 + \dots\dots\dots + 10 = 55$  எனில்  $1^3 + 2^3 + 3^3 + \dots\dots\dots + 10^3$  மதிப்பு என்ன?

- A)  $55^3$       B)  $55^2$       C) 165      D) 55

5)  $X=5, Y=4$  என்ற நேர்கோடுகள் சந்திக்கும் புள்ளி?

- A) (4, 5)      B) (5, 4)      C) (-5, 4)      D) (4, -5)

6)  $\cos \theta = 4/5$  எனில்  $\sin \theta = ?$

- A)  $\frac{1}{5}$       B)  $\frac{2}{5}$       C)  $\frac{3}{5}$       D) 1

7) மின் திறனின் அலகு என்ன?

- A) ஓம்      B) ஜூல்      C) கூலும்      D) வாட்

8) திரவ நிலையில் உள்ள ஓர் உலோகம் எது?

- A) இரும்பு      B) பாதரசம்      C) கார்பன்      D) தங்கம்

9) இரும்பு துருப்பிடித்தல் என்பது எந்த வினையைச் சார்ந்தது?

- A) இடப்பெயர்ச்சி      B) நீர்நீக்கம்      C) ஒடுக்கம்      D) ஆக்ஸிஜினைற்றம்

10) எண்ம விதியை வெளியிட்டவர் யார்?

- A) மெண்டலீப்      B) நியூலாண்ட்      C) டாபர்னீர்      D) லோதர்மேயர்

11) நரம்பு மண்டலத்தின் செயல் அலகு எது?

- A) நெப்ரான்      B) காற்றுப்பைகள்  
C) நியூரான்      D) மைட்டோகாண்ட்ரியா

12) இந்திய மருத்துவ ஆராய்ச்சி அமைப்பு நிறுவனம் அமைந்துள்ள இடம் எது?

- A) டெல்லி      B) சென்னை      C) மும்பை      D) லக்னோ

13) காற்று அல்லது வெற்றிடத்தில் ஒளியின் திசைவேகம் என்ன?

- A)  $3 \times 10^8$  மீட்டர்/நொடி      B)  $3 \times 10^6$  மீட்டர்/நொடி

- C) 330 மீட்டர்/நொடி      D)  $3 \times 10^8$  மீட்டர்

14) இதயத்தை சுற்றியுள்ள மெல்லிய படலத்தின் பெயர் என்ன?

- A) பெரிகார்டியம்      B) மெனிஜஸ்      C) பிளியூரா      D) தலாமஸ்

15) கடல் நீரை குடிநீராக மாற்றும் முறை எது?

- A) சவ்வூடு பரவல்                      B) எதிர் சவ்வூடு பரவல்  
C) வீழ் படிவாக்கல்                  D) காய்ச்சி வடித்தல்

16) மழைத்துளிகள் கோள வடிவத்தை பெறக் காரணம் என்ன?

- A) ஈர்ப்பு விசை                              B) பரப்பு இழுவிசை  
C) மைய நோக்கு விசை                  D) மைய விலக்கு விசை

17) கருவுற்ற முட்டையின் குரோமோசோமின் எண் இவ்வாறு இருக்கும்?

- A) ஒற்றைமயம்                      B) இரட்டைமயம்                      C) நான்குமயம்                      D) பலமயம்

18) வைரத்தின் மாறுநிலைக் கோணம்?

- A) 42.4°                      B) 34.4°                      C) 24.8°                      D) 24.4°

19) பசுமை புரட்சி எனும் சொல்லை உருவாக்கியவர்?

- A) எம்.எஸ்.சுவாமினாதன்                      B) போர்லாயவ்  
C) ராமன்    D) வில்லியம் எஸ் காட்

20) பற்பசையானது முட்டைகோஸ் சாற்றை பச்சை நிறமாக

மாற்றுகிறது. இதிலிருந்து பற்பசை ஒரு.....

- A) அமிலம்    B) காரம்  
C) நடுநிலைத் தன்மையுடையது                      D) மேற்கூறியது எதுவுமில்லை

21) இந்தியாவின் முதல் தேசிய பூங்கா?

- A) கார்பெட் தேசிய பூங்கா                      B) கிர் தேசிய பூங்கா  
C) பந்திப்பூர் தேசிய பூங்கா                      D) காசிரங்கா தேசிய பூங்கா

22) மின் ஆற்றலை ஒலி ஆற்றலாக மாற்ற உதவும் சாதனம்?

- A) மைக்ரோபோன்                      B) மின் விசிறி  
C) ஒலி பெருக்கி                      D) மின் மோட்டார்

23) நைட்ரஜனை நிலைப்படுத்தும் பாக்டீரியாக்களில் உள்ள ஜீன்கள்?

- A) Nif ஜீன்கள்                      B) DNA ஜீன்கள்                      C) பாலி ஜீன்கள்                      D) RNA ஜீன்கள்

24) இரத்தப் புற்றுநோயை குணப்படுத்தும் தாவரம்?

- A) வின்காரோசியா                      B) மீலியேசி  
C) ஜிஜிபெர் அபிஷினேல்                      D) பூண்டு

25) 1857ல் நடந்த புரட்சியைப் பற்றி ஆங்கில வரலாற்று ஆசிரியர்கள் விவரிக்கும் விதம்?

- A) சுதந்திர போர்                      B) சிப்பாய்க் கலகம்  
C) பெருங்கலகம்                      D) விடுதலைப் போராட்டம்

26) இலங்கையை இந்தியாவிலிருந்து பிரிக்கும் நீர் சந்தி

- A) பாக் நீர் சந்தி                      B) பாலக்காட்டு நீர் சந்தி  
C) மன்னார் நீர் சந்தி                      D) ஜஸ்வால்

27) இந்தியாவில் அதிக மக்கள் தொகை உள்ள மாநிலம்?

- A) மத்திய பிரதேசம்                      B) அருணாச்சலப் பிரதேசம்  
C) ஆந்திர பிரதேசம்                      D) உத்திர பிரதேசம்

28) பூமிதான இயக்கத்தினை தொடங்கியவர்

- A) நேரு                                      B) காந்தியடிகள்  
C) ஆசார்ய வினோபா பாவே              D) ராஜீவ் காந்தி

29) நேரு அரசு பின்பற்றிய பொருளாதாரக் கொள்கை

- A) தனியார் மயம்                      B) கலப்பு பொருளாதாரம்  
C) உலக மயம்                              D) தாராள மயம்

30) நமது இந்தியாவின் முதல் குடியரசு தலைவர்?

- A) திரு.நேருஜி                              B) வல்லபாய் பட்டேல்  
C) திருமதி. இந்திரா காந்தி              D) Dr.இராஜேந்திர பிரசாத்

31) 1950-ம் ஆண்டு முதல் நாடெங்கிலும் மரம் நடுவிழா கொண்டாடப்படும்

மாதங்கள்?

- A) ஜூலை மற்றும் ஆகஸ்ட்                      B) ஜனவரி மற்றும் பிப்ரவரி  
C) மே மற்றும் ஜூன்                              D) அக்டோபர் மற்றும் நவம்பர்

32) கலிங்கம் என்பது தற்போதைய?

A) (ஓரிசா) ஓடிசா B) பஞ்சாப் C) ராஜஸ்தான் D) வங்காளம்

33) சமுதயத்தின் அடிப்படை அங்கம்

A) கிராமம் B) நகரம் C) குடும்பம் D) மாநகரம்

34) உச்ச நீதிமன்றத்தின் நிரந்திர தலைமையிடம்

A) சென்னை B) மும்பை C) கொல்கத்தா D) புதுடெல்லி

35) தென் இந்தியாவில் உப்பு சத்தியாகிரகத்தை முன்னின்று நடத்தியவர்?

A) காந்திஜி B) இராஜகோபாலச்சாரியார் C) காமராசர் D) நேருஜி

36) 'ஆற்காட்டு வீரர்' என்று புகழப்பட்டவர்?

A) ரிப்பன் பிரபு B) புஸ்ஸி C) இராபர்ட் கிளைவ் D) கானிங் பிரபு

37) வாக்காளர் அடையாள அட்டையை வழங்குவது?

A) இந்திய தேர்தல் ஆணையம் B) மத்திய அரசு

C) உள்ளாட்சி அமைப்பு D) மாநில அரசு

38) இந்தியாவின் மேற்கில் அமைந்துள்ள தீபகற்பம்?

A) ஆஸ்திரேலியா B) ஸ்ரீலங்கா C) இந்தோ சீனா D) அரேபியா

39) இந்தியாவின் குறுக்காக ஓடும் சிறப்பு அட்சம்?

A) மகர ரேகை B) கடகரேகை C) துருவ வட்டம் D) நிலநடுக்கோடு

40) கிறுத்துவக் கம்பர் என்று புகழப்படுபவர்?

- A) வேதநாயகம் பிள்ளை                      B) எச்.ஏ.கிருட்டிணப்பிள்ளை  
C) சங்கர நாராயணப் பிள்ளை              D) ஜி.யு.போப்

41) தொலைவில் உள்ளது பசுவோ? எருதோ என வினவுவது..... வினா?

- A) அறிவினா              B) கொடை வினா              C) ஐய வினா              D) ஏவர் வினா

42) நெய்தல் நிலத்துக்குரிய தொழில் யாது?

- A) கிழங்கு அகழ்தல்                      B) உப்பு விளைவித்தல்  
C) களை பறித்தல்                      D) நிறை கவர்தல்

43) திரிகடுகத்தை இயற்றியவர்?

- A) காரியாசான்              B) நல்லாதானார்              C) நாகனார்              D) கணிமேதாவியார்

44) கலம்பக உறுப்புகள்?

- A) ஆறு              B) பன்னிரெண்டு              C) பதினெட்டு              D) ஒன்பது

45) பிரித்து எழுதுக: வெண்குடை?

- A) வெம் + குடை                      B) வெண்மை + குடை  
C) வெறுமை + குடை                      D) வெங் + குடை

46) 'மகர யாழ்' என்றால் என்ன? எவ்வகை வாக்கியம் எனச் சுட்டுக?

- A) வினா வாக்கியம்                      B) தனி வாக்கியம்  
C) உணர்ச்சி வாக்கியம்                      D) விழைவு வாக்கியம்



47) சரியான பொருள்களுடன் பொருத்துக

1) மதுகரம் - அ) பெண் யானை

2) புரை - ஆ) கூந்தல்

3) குழல் - இ) தேனீ

4) பிடி - ஈ) குற்றம்

A) அ,இ,ஈ,ஆ B) இ,ஈ,ஆ,அ C) ஈ,இ,அ.,ஆ D) அ,ஆ,இ,ஈ

48) இரு உதடுகளையும் குவிப்பதால் உண்டாகும் எழுத்துக்கள்

A) இ,ஈ B) அ,ஆ C) ப்,ம D) ஓ,ஔ

49) ' கந்தர் கலிவெண்பா ' வை இயற்றியவர்

A) திரிகூடராசப்பர் B) கச்சியப்பர் C) பாரதிதாசனார் D) குமரகுருபரர்

50) 'தடக்கை:- என்பதன் இலக்கணக் குறிப்பு எழுதுக

A) உரிச்சொற்றொடர் B) இரட்டைக்கிளவி C) உருவகம் D) உவமை

51) .வெற்றி என்பது மகிழ்ச்சியைக் குறிக்கும் போது, தோல்வி என்பது எதனைக் குறிக்கும்?

A) ஆத்தரம் B) கோபம் C) ஏமாற்றம் D) விரயம்

52) WOLF என்பது FLOW ஆனால் 8526 என்பது?

A) 2856 B) 6258 C) 5862 D) 5682

53) கீழ்க்கண்ட எழுத்து வரிசையில் அடுத்த வரிசை என்ன?

aaaa....., bdzb.....,cgac.....,djzd.....,

A) enae      B) ekze      C) elxe      D) emae

54) 0.5,0.55,0.65,0.8?

A) 0.9      B) 0.82      C) 1      D) 0.95

55) யார் குதிரை ஏற்றம், துப்பாக்கி சுடுதல், கத்திச் சண்டை மூன்றிலும் வல்லவர்?

A) ஸோபா      B) பூனம்      C) மது      D) அஞ்சலி

56) S என்பவர் R என்பவருக்கு என்ன உறவு?

A) சகோதரி      B) அத்தை      C) மகள்      D) அம்மா

57) நுண்ணறிவுச் சோதனைகள் தற்கால் மாணவர்களை ----- அடிப்படையில் வகைப்படுத்த பயன்படுகிறது

A) வயதின்      B) ஆற்றலின்      C) தேர்ச்சி      D) நுண்ணறிவு

58) இன்று சனிக்கிழமை எனில் 27 நாட்கள் கழித்து எந்த நாளாக இருக்கும்

A) திங்கள் கிழமை      B) வெள்ளிக்கிழமை

C) புதன்கிழமை      D) சனிக்கிழமை

59) எல்லா சிறைவாசிகளும் ஆண்கள்,எந்த ஆணும் படிக்கவில்லை.இந்த

கூற்றின்படி,எந்த விடை சரியானது?

- A) எந்த சிறைவாசியும் படிக்கவில்லை  
 B) பெண் சிறைவாசிகள் கிடையாது  
 C) எல்லா சிறைவாசிகளும் பெண்கள்  
 D) சில சிறைவாசிகள் படிக்கவில்லை

60) A, B, C, D என 4 நபர்கள் உள்ளனர். A-ன் தந்தை F, A-ன் மகன் C, F-ன் தங்கை K, C-ன் அண்ணன் G, எனில் G - ன் மாமன் யார்?

- A) K      B) F      C) A      D) யாருமில்லை

61) கீழே கொடுத்துள்ள படங்களில், குடும்பம், மகன், மகள், மூவரின் உறவை குறிக்கும் படம் எது?



ANS : C


62) ஒரு கடிகாரம் 1 மணி, 2 மணி, 3 மணி என மணிக்கொரு தரம் மணி அடிக்கிறது, எனில் ஒரு வாரத்தில் எவ்வளவு முறை அடிக்கும்

- A) 256 முறை      B) 176 முறை      C) 156 முறை      D) 168 முறை

63) ஒரு நம்பரை யோசித்துக் கொள்ளுங்கள், அதை 4-ஆல் வகுக்கவும், பின் 9-ஐ அதனுடன் கூட்டவும், பதில் 15 எனில் அந்த நம்பர் என்ன?

- A) 20      B) 22      C) 24      D) இவற்றில் ஏதுமில்லை

64)



ANS : C

65) ஒரு எண்ணில் நான்கில் ஒரு பாதி ( $1/4^{\text{th}}$ ) 72 எனில், அந்த எண்ணின் மூன்றில் இரண்டு ( $2/3^{\text{rd}}$ ) எவ்வளவு?

- A) 54      B) 190      C) 96      D) 192

66) ஒரு குறிப்பிட்ட மொழியில் CHARCOAL என்பது 45164913 எனவும், MORALE என்பது 296137 எனவும் குறிக்கப்பட்டுள்ளன எனில், ROCHEL என்பது எவ்வாறு குறிக்கப்பட்டிருக்கும்?

- A) 694573      B) 673958      C) 693578      D) 693857

68) கொடுக்கப்பட்டுள்ள படத்தில் எத்தனை முக்கோணங்களும், சதுரங்களும் உள்ளன?



- A) 28 முக்கோணம் 4 சதுரம்      B) 24 முக்கோணம் 5 சதுரம்  
C) 28 முக்கோணம் 5 சதுரம்      D) 24 முக்கோணம் 5 சதுரம்

69) படைவீரர்களை தேர்ந்தெடுக்க பயன்படும் சோதனை?

- A) நிலைமைச் சோதனைகள்      B) மைதடச் சோதனைகள்

C) நேர்க்காணல்

D) இணைத்தறி சோதனைகள்

70) கீழே கொடுக்கப்பட்டுள்ள எண் வரிசையில் காலி இடத்தை நிரப்பும் எண் எது?

13,19,22, ?,12,14


A) 44      B) 29      C) 26      D) 24

71) கீழ்க்கண்டவற்றில் தனித்து நிற்கும் எழுத்து கண்டுபிடிக்கவும்

N    K    W    J

A) N      B) K      C) J      D) W

72) வரிசையில் காலியான இடத்தை சரியான வரைபடம் எது என்று கண்டுபிடிக்கவும்



ANS : D

73) சரியான வரிசையை விடைகளில் தேர்ந்தெடுக்கவும்

1. வேலையின்மை    2. வறுமை    3. ஜனத்தொகை    4. நோய்    5. இறப்பு

A) 3, 1, 4, 2, 5      B) 3, 1, 2, 4, 5      C) 3, 4, 2, 1, 5      D) 3, 1, 2, 5, 4

74) வெட்ட வெளியில் நிற்கும் ஒருவனின் நிழல், மதியம் 12 மணியளவில், எந்த திசையில் நீண்டிருக்கும்?

- A) தெற்கு      B) வடக்கு      C) மேற்கு      D) எத்திசையும் இல்லை

75) இவைகளில் பொருத்தமில்லாதது எது? அணில், குயில், எலி, பல்லி

- A) அணில்      B) குயில்      C) எலி      D) பல்லி

76) கீழ்க்கண்டவற்றை வரிசைப்படுத்தவும்

- 1) செம்பு      2) இரும்பு      3) தங்கம்      4) வெள்ளி      5) பித்தளை

- A) 2, 5, 4, 1, 3      B) 2, 5, 1, 4, 3      C) 2, 1, 5, 4, 3      D) 1, 2, 5, 4, 3

77) பொருத்தமான எழுத்துக்களின் வரிசையை விடைகளில் தேர்ந்தெடுக்கவும்.

ACFJ : KMPT :: BDHL : .....

- A) LMJK      B) PQTV      C) LNQR      D) LNQU

78) பொருத்தமற்ற ஜோடி வார்த்தையை கண்டுபிடிக்கவும்

- 1) ஆச்சரியம்: சந்தோஷம்      2) ஆத்திரம்: கோபம்  
3) சாந்தம்: நிம்மதி      4) துக்கம்: பாசம்

- A) 1      B) 4      C) 2      D) 3

79) காலியிடத்தை நிரப்பும் சரியான வார்த்தையை விடைகளிலிருந்து

தேர்ந்தெடுக்கவும்

மருத்துவர்: வெள்ளை: : .....: கருப்பு

- A) ஆசிரியர்    B) நோயாளி    C) வக்கீல்    D) ஆடை

80) கீழ்க்காணும் வரிசை எழுத்துக்களில் காலியிடத்தை நிரப்பும் சரியானதை விடைகளிலிருந்து கண்டுபிடிக்கவும்

G ..... I, D, K, C, M, B, O, A, Q

- A) H    B) E    C) F    D) J

